

**PREFEITURA MUNICIPAL DA ILHA DE ITAMARACÁ – PE
CONCURSO PÚBLICO 2023**

CADERNO DE QUESTÕES

IDENTIFICAÇÃO DO CANDIDATO

NOME:

CPF:

NÍVEL: FUNDAMENTAL II

CARGO: 50 – OPERADOR DE MÁQUINAS PESADAS

Leia com atenção:

1. No Cartão-Resposta, as questões estão representadas por seus respectivos números. Preencha com caneta esferográfica (tinta PRETA);
2. O Cartão-Resposta tem, obrigatoriamente, de ser assinado. Esse Cartão-Resposta não poderá ser substituído, portanto, não o rasure nem o amasse;
3. A DURAÇÃO DA PROVA é de 3 horas, incluído o tempo para preenchimento do Cartão-Resposta;
4. Na prova há 40 questões de múltipla escolha, com cinco opções: A, B, C, D e E;
5. Durante a prova, não será admitida qualquer espécie de consulta ou comunicação entre os candidatos, tampouco será permitido o uso de qualquer tipo de aparelho eletrônico (Calculadora, Celulares e etc.);
6. Só será permitido ao candidato entregar sua prova escrita após 45 (quarenta e cinco) minutos do seu início;
7. Só será permitido ao Candidato sair portando o Caderno de questões, após decorridos 2:40 (duas horas e quarenta minutos), após o efetivo início das provas;
8. O candidato somente poderá ausentar-se temporariamente da sala de provas, durante sua realização, acompanhado de um fiscal;
9. Os 03 (três) últimos candidatos em cada sala de prova, somente poderão entregar a respectiva prova e retirarem-se do local simultaneamente, após assinarem o lacre do envelope, juntamente com os fiscais de sala;
10. Será excluído do Concurso Público o candidato que descumprir os itens acima.

15 QUESTÕES DE PORTUGUÊS

Texto 1

Um dos grandes avanços da ciência é o desenvolvimento de vacinas. Com o objetivo de fortalecer o sistema imunológico, as vacinas estimulam a produção de anticorpos que combatem agentes infecciosos – como vírus e bactérias – e evitam o adoecimento. Além disso, a imunização é uma estratégia imprescindível para a saúde pública, uma vez que, ao prevenir a disseminação de doenças, também evita epidemias. Por isso, é uma ação que fortalece a resposta imune individual e coletiva.

As vacinas estão disponíveis tanto no serviço público de saúde quanto na rede privada. No caso do Sistema Único de Saúde (SUS), elas são oferecidas nas unidades básicas de saúde do município (UBS) e qualquer pessoa, brasileira ou não, pode ser vacinada. Para isso, basta ir à UBS mais próxima levando seus documentos pessoais e seu cartão SUS. É importante apresentar, também, a sua carteira de vacinação, mas, caso você não tenha uma, vá e se vacine mesmo assim. Quem recebe todas as vacinas disponíveis no Programa Nacional de Imunização tem melhor qualidade de vida e proteção a curto, médio e longo prazo.

(Adaptado. *Departamento de Atendimento à Saúde do Estudante (DEAS)*
<https://portal.unila.edu.br/informes/a-importancia-da-vacinacao> Acesso em 26/09/2023).

1. De acordo com as informações que traz, o texto reforça a ideia de que:

- a) as vacinas impactam na condição de vida da população de forma imprecisa.
- b) o avanço trazido pela vacina demonstra uma ciência precoce em estudos.
- c) os efeitos da vacina implicam uma saúde populacional robustecida.
- d) a prevenção contra doenças atende a comunidades mais vulneráveis.
- e) o estímulo a campanhas de vacinação cresce no combate a surtos.

2. No trecho: “ao prevenir a disseminação de doenças”, o termo destacado pode ser substituído sem prejuízo de sentido por:

- a) concentração
- b) dedução
- c) aglomeração
- d) dispersão
- e) condensação

3. Assinale a alternativa que apresenta um verbo irregular.

- a) “tem melhor qualidade de vida”
- b) “Quem recebe todas as vacinas”
- c) “e se vacine mesmo assim”
- d) “e evitam o adoecimento”
- e) “levando seus documentos pessoais”

4. No fragmento: “uma vez que, ao prevenir a disseminação de doenças, também evita epidemias.”, a expressão destacada terá seu sentido alterado se for substituída por:

- a) porque
- b) já que
- c) visto que
- d) pois
- e) à medida que

5. Nos trechos:

“...as vacinas estimulam a produção de anticorpos que combatem agentes infecciosos”

“Por isso, é uma ação que fortalece a resposta imune individual e coletiva.”

Os termos sublinhados referem-se, respectivamente, a

- a) ‘vacinas’ e ‘resposta’
- b) ‘anticorpos’ e ‘ação’
- c) ‘produção’ e ‘uma’
- d) ‘anticorpos’ e ‘coletiva’
- e) ‘vacinas’ e ‘ação’

6. No fragmento: “Quem recebe todas as vacinas disponíveis no Programa Nacional de Imunização”, o vocábulo sublinhado pertence à mesma classe gramatical daquele sublinhado em

- a) “Um dos grandes avanços da ciência”
- b) “a imunização é uma estratégia”
- c) “e proteção a curto, médio e longo prazo.”
- d) “também evita epidemias”
- e) “a sua carteira de vacinação”

7. No enunciado: “Para isso, basta ir à UBS mais próxima”, o emprego de crase respeita a norma culta da mesma forma que ocorre na alternativa:

- a) A vacinação deve ocorrer à partir do nascimento do bebê.
- b) Uma campanha destinada à uma prevenção de saúde coletiva.
- c) Começar à vacinar no período correto é um ato louvável.
- d) O incentivo à vacinações regulares deve ser contínuo.
- e) O acesso gratuito à vacinação é questão de saúde pública.

8. Em relação às normas da regência indique a alternativa incorreta:

- a) As vacinas chegam nas secretarias municipais frequentemente.
- b) Levar os filhos aos setores de vacinação é necessário.
- c) Todos permaneciam atentos ao calendário de vacinação.
- d) Não se esqueça do acompanhamento da vacinação infantil.
- e) A vacinação não atualizada é nociva ao crescimento saudável.

9. O vocábulo “bactérias” é acentuado pela mesma regra dos termos:

- a) “disponíveis” e “município”
- b) “vá” e “vírus”
- c) “ciência” e “também”
- d) “imprescindível” e “você”
- e) “imunológico” e “médio”

10. O enunciado “e qualquer pessoa, brasileira ou não, pode ser vacinada.” pluraliza-se adequadamente na alternativa:

- a) ‘e qualquer pessoas, brasileira ou não, podem ser vacinadas.’
- b) ‘e qualquer pessoas, brasileiras ou não, pode serem vacinadas.’
- c) ‘e quaisquer pessoas, brasileiras ou não, podem ser vacinadas.’
- d) ‘e quaisquer pessoas, brasileira ou não, pode serem vacinada.’
- e) ‘e quaisquer pessoas, brasileiras ou não, podem serem vacinada.’

11. Ainda no enunciado: “e qualquer pessoa, brasileira ou não, pode ser vacinada.”, o termo destacado é classificado gramaticalmente como:

- a) adjetivo
- b) pronome
- c) preposição
- d) conjunção
- e) verbo

12. Em: “... a imunização é uma estratégia imprescindível...”, a palavra em destaque flexiona em número plural do mesmo modo que os termos a seguir, exceto, em:

- a) criação
- b) razão
- c) paixão
- d) cidadão
- e) cordão

13. Analise os excertos a seguir e indique a alternativa em que a palavra sublinhada não é preposição.

- a) “e proteção a curto, médio e longo prazo.”
- b) “quanto na rede privada.”
- c) “a sua carteira de vacinação”
- d) “tem melhor qualidade de vida”
- e) “para a saúde pública”

14. Quanto ao emprego dos pronomes, marque a alternativa correta.

- a) Muitos falam sobre a vacinação com nós.
- b) Trouxeram-na para eu aplicar na criança.
- c) Era importante a medicação para tu e eu.
- d) Levaram eles para serem vacinados ontem.
- e) Não havia dúvida da vacinação entre mim e tu.

15. Analise as alternativas a seguir e assinale a correta.

- a) Em: “fortalecer o sistema imunológico”, tem-se em destaque um substantivo abstrato.
- b) Em: “a produção de anticorpos”, o termo grifado é escrito sem hífen, da mesma forma que ‘antiinflamatório’.
- c) Em: “Por isso, é uma ação que fortalece...”, o elemento destacado é uma conjunção com sentido de explicação.
- d) Em: “Além disso, a imunização é uma estratégia imprescindível”, o termo sublinhado estabelece uma relação de adição.
- e) Em: “ao prevenir a disseminação de doenças”, o substantivo do verbo destacado escreve-se com ‘s’: prevenção.

25 QUESTÕES DE CONHECIMENTOS ESPECÍFICOS

16. Com relação à direção defensiva, analise as proposições a seguir e assinale a alternativa correta:

- I. Direção defensiva tem relação com as ações permanentes que o condutor deve adotar ao volante para se prevenir de eventuais acidentes
- II. Direção defensiva tem relação com as ações a serem tomadas pelo condutor quando na iminência de um sinistro, com a finalidade de evitá-lo
- III. Direção defensiva tem relação com as ações que o indivíduo deve ter com a finalidade de se proteger ou defender quando surge uma adversidade

- a) V, F, V
- b) F, V, V
- c) V, V, V
- d) V, V, F
- e) F, V, F

17. Com relação à direção defensiva e condições adversas de iluminação, são fatores causadores de ofuscamento, exceto:

- a) Reflexo de luz solar em espelhos ou para-brisas
- b) Farol alto de outros veículos que eventualmente reflitam nos espelhos
- c) Passagem de um trecho muito iluminado para um de baixa iluminação ou o contrário
- d) Luz emitida pelo painel do veículo
- e) Farol alto de veículo que venha no sentido contrário

18. Com relação às ações a serem tomadas pelo condutor quando exposto a uma situação de ofuscamento por farol contrário com luz alta, assinale a alternativa incorreta:

- a) Reduzir a velocidade e alertar o condutor do outro veículo piscando os faróis
- b) Manter velocidade e acionar a luz alta de modo que o condutor do outro veículo seja forçado e reduzir a intensidade do farol
- c) Reduzir a velocidade e guiar-se pela margem direita da via quando o condutor no sentido oposto não atender a recomendação de baixar os faróis ao se aproximar de outros veículos

- d) Evitar olhar para os faróis do carro que segue em direção contrária
- e) O condutor deve ter a capacidade de utilizar a visão periférica para visualizar com rapidez o que acontece nas proximidades do seu veículo, como laterais e traseira

19. Com relação à aquaplanagem, são fatores de risco, exceto:

- a) Pneus carecas
- b) Pneus com calibragem inadequada
- c) Pneus com sulcos
- d) Quantidade considerável de água na pista
- e) Alta velocidade

20. Qual das ações abaixo não deve ser executada em caso de aquaplanagem:

- a) Desacelerar suavemente retirando o pé do acelerador
- b) Não frear
- c) Segurar firme o volante
- d) Executar manobra em zigue zague para aumentar a aderência do pneu na estrada
- e) Procurar manter o veículo em linha reta

21. Com relação à direção defensiva e riscos nas ultrapassagens, assinale a opção que não representa um cuidado a ser tomado em ultrapassagens:

- a) Identificar as condições de segurança como potência do veículo e limite de velocidade
- b) Respeitar as condições de segurança e visibilidade
- c) Respeitar as sinalizações da via quanto à permissão para ultrapassagem
- d) Ultrapassar apenas pela esquerda, exceto quando o veículo a frente indicar a intenção de entrar a esquerda
- e) Ao identificar a oportunidade, realizar a manobra, ainda que outro veículo já tenha iniciado uma ultrapassagem

22. Não é um local contraindicado para ultrapassagens:

- a) Aclive
- b) Declive
- c) Ponte
- d) Retas
- e) Cruzamento

23. Com relação às ações a serem adotadas pelo condutor em caso de derrapagem, analise as proposições a seguir e assinale a alternativa correta:

I – O condutor deve manter a calma, manter a mão firme no volante, pisar no freio, não realizar movimentos bruscos

Porque

II – As ações citadas acima ajudam a recuperar o controle do veículo

- a) Apenas I é verdadeira
- b) Apenas II é verdadeira
- c) I e II são verdadeiras e II é justificativa correta de I

- d) I e II são verdadeiras, mas II não é justificativa correta de I
- e) I e II são falsas

24. Com relação às medidas de segurança em curvas, analise as alternativas abaixo e assinale a alternativa correta:

- I. Deve-se reduzir a velocidade antes de entrar na curva
- II. Não há riscos em frenagem durante a curva
- III. Cuidados com a velocidade e angulação da curva reduzem o risco de derrapagem

- a) V, V, V
- b) V, F, V
- c) F, V, V
- d) V, F, F
- e) V, V, F

25. Com relação à direção defensiva e a distância de segurança, analise as proposições a seguir:

- I. Distância de segurança é a distância mínima entre o veículo do condutor e o veículo a sua frente
- II. A distância de segurança serve para evitar colisões caso o veículo a frente realize uma redução de velocidade inesperada
- III. A distância de segurança é composta pela distância de reação, distância de parada acrescida e um saldo da distância de seguimento de modo a garantir que haja tempo suficiente para evitar colisões em caso de frenagem brusca do veículo e frente

- a) F, F, F
- b) F, V, V
- c) V, F, F
- d) F, V, F
- e) V, V, V

26. Com relação a distância de segurança e seus componentes, assinale a alternativa incorreta:

- a) Distância de frenagem é a distância que o veículo percorre entre o momento em que o freio é acionado e a parada total do veículo
- b) Distância de frenagem é a distância percorrida entre o condutor perceber a situação de perigo a sua frente e a parada total do veículo
- c) Distância de reação é a distância percorrida entre o condutor perceber a situação de perigo a frente e tira o pé do acelerador até o momento em que ele pisa no freio
- d) Distância de parada é a distância percorrida entre o condutor perceber a situação de perigo, tomar a decisão de parar e parar totalmente o veículo, a uma distância segura do veículo a frente
- e) Distância de seguimento é a distância que deve ser mantida entre dois veículos, de modo que o condutor do veículo de trás tenha condição de realizar uma parada sem que ocorra colisão com o veículo da frente em caso de redução brusca da velocidade pelo condutor da frente

27. Com relação à distância de segurança, assinale a alternativa incorreta:

- a) O condutor pode utilizar pontos fixos como referência para verificar se está a uma distância segura do veículo a sua frente
- b) Em regra a manutenção de uma distância equivalente a 2 segundos, quando comparado a um ponto fixo, é suficiente para assegurar uma distância mínima segura
- c) Em condições adversas, como chuva ou neblina, a referência de tempo e distância é a mesma que nos dias de sol
- d) A aferição da distância considerando o tempo e um ponto fixo de referência deve ser feita analisando o momento que a traseira do veículo a frente passa pelo ponto escolhido e o momento em que o veículo do condutor inicia a sua passagem pelo menos ponto
- e) Árvores, placas e semáforos são exemplos de ponto de referência que podem ser escolhidos pelo condutor

28. Com relação às noções de primeiro socorro em caso de fratura, assinale a alternativa incorreta:

- a) Solicitar socorro especializado (bombeiros ou samu)
- b) Imobilizar o local para evitar que a situação fique mais grave
- c) Em caso de fratura exposta, deve-se tentar conter o sangramento com um pano limpo
- d) Deve-se tentar colocar o osso no lugar
- e) Fraturas em costas ou pescoço deve-se aguardar os profissionais especializados para movimentar o paciente

29. Com relação às noções de primeiro socorro em caso de desmaios, assinale a alternativa incorreta:

- a) Deve-se deitar a vítima
- b) Deve-se afrouxar a roupa da vítima
- c) Deve-se garantir que o ambiente esteja mais arejado possível
- d) Deve-se elevar as pernas da vítima
- e) Deve-se dar água para a vítima beber, mesmo que ainda esteja desacordada

30. Com relação ao conceito de cargas perigosas, assinale a alternativa incorreta:

- a) São cargas explosivas, inflamáveis, radioativas, oxidantes, venenosas, infecciosas, corrosivas ou poluentes
- b) São cargas que ponham em risco o trabalhador
- c) São cargas que embora ofereçam riscos em geral, não resultam em risco para os demais condutores
- d) São cargas que ponham em risco o meio ambiente
- e) São cargas que ponham em risco instalações físicas

31. Com relação ao conceito de cargas perigosas, assinale a alternativa incorreta:

- a) Pólvora se classifica como substância radioativa
- b) Álcool se classifica como líquido inflamável
- c) Ácido sulfúrico se classifica como substância corrosiva
- d) Pesticida se classifica como substância tóxica ou infectante
- e) Gasolina se classifica como líquido inflamável

32. De acordo com o Código de trânsito brasileiro, é competência da Polícia Rodoviária Federal, exceto:

- a) Cumprir e fazer cumprir as leis e normas de trânsito dentro das suas atribuições
- b) Credenciar serviço de escolta, fiscalizar e adotar medidas de segurança relativas aos serviços de remoção de veículos, escolta e transporte de carga indivisível
- c) Executar fiscalização de trânsito, aplicar penalidades de advertência por escrito e multa e as medidas administrativas cabíveis
- d) Efetuar levantamento dos locais de sinistros de trânsito e dos serviços de atendimento, socorro e salvamento de vítimas
- e) Responder consultas relativas à aplicação da legislação e dos procedimentos normativos de trânsito

33. De acordo com o Código de trânsito brasileiro, é competência dos órgãos e entidades executivos rodoviários da União, Estados, Distrito Federal e Municípios, exceto:

- a) Organizar e manter o Registro Nacional de Carteiras de Habilitação - RENACH
- b) Planejar, projetar, regulamentar, e operar o trânsito de veículos, pedestres e animais, e promover o desenvolvimento da circulação e da segurança de ciclistas
- c) Coletar dados e elaborar estudo sobre os sinistros de trânsito e suas causas
- d) Arrecadar valores provenientes de estada e remoção de veículos e objetos, e escolta de veículos de cargas superdimensionadas ou perigosas
- e) Implementar as medidas da Política Nacional de Trânsito e do Programa Nacional de Trânsito

34. De acordo com o Código de trânsito brasileiro, é competência dos órgãos e entidades executivos de trânsito dos Municípios, exceto:

- a) Implantar, manter e operar sistema de sinalização, os dispositivos e os equipamentos de controle viário
- b) Coordenar os órgãos do Sistema Nacional de Trânsito, objetivando a integração de suas atividades
- c) Estabelecer, em conjunto com os órgãos de polícia ostensiva de trânsito, as diretrizes para o policiamento ostensivo de trânsito
- d) Implantar, manter e operar sistema de estacionamento rotativo pago nas vias
- e) Promover e participar de projetos e programas de educação e segurança de trânsito de acordo com as diretrizes estabelecidas pelo CONTRAN

35. De acordo com o Código de trânsito brasileiro, com relação à circulação em vias terrestres abertas, assinale a alternativa incorreta:





- a) O condutor deve guardar distância de segurança lateral e frontal entre o seu e os demais veículos
- b) Em rotatória a preferência de passagem será de quem estiver circulando por ela
- c) A condução deve ser feita pelo lado esquerdo, permitindo exceções devidamente sinalizadas

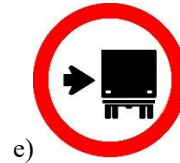
- d) Em caso de fluxos com cruzamentos não sinalizados, quando um único fluxo for proveniente de rodovia, este terá preferência de passagem
- e) Em caso de fluxos com cruzamentos não sinalizados, quando não se tratar de rotatória ou de único fluxo proveniente de rodovia, a preferência será de quem vem a direita do condutor

36. De acordo com o Código de trânsito brasileiro, com relação à circulação em vias terrestres abertas, assinale a alternativa incorreta:

- a) Quando uma pista de rolamento comporta várias faixas de circulação no mesmo sentido, são as da direita destinadas ao deslocamento de veículos mais lentos e de maior porte, quando não houver faixa própria para eles, e as da esquerda, destinada às ultrapassagens e ao deslocamento de veículos de maior velocidade
- b) Veículos precedidos de batedores terão prioridade de passagem, respeitadas as demais normas de circulação
- c) Os veículos destinados a socorro de incêndio e salvamento, os de polícia, os de fiscalização e operação de trânsito e as ambulâncias, além de prioridade no trânsito, gozam de livre circulação, estacionamento e parada, quando em serviço de urgência, de policiamento ostensivo ou de preservação da ordem pública
- d) Trânsito de veículos sobre passeios, calçadas e acostamentos é permitido sem restrições
- e) Veículos que se deslocam sobre trilhos terão preferência de passagem sobre os demais, respeitadas as normas de circulação

37. Com relação às placas regulamentadoras, qual das imagens abaixo representa adequadamente a R-13, placa relacionada a proibição de circulação de tratores e máquinas de obras:

- a) 
- b) 
- c) 
- d) 



38. A placa da imagem a seguir representa:




- a) R-34 – Circulação exclusiva de bicicleta
- b) R-35A – Ciclista, transite à esquerda
- c) R-35B – Ciclista, transite à direita
- d) R-36A – Ciclista à esquerda, pedestre à direita
- e) R-36B – Ciclista à direita, pedestre à esquerda

39. A placa da imagem a seguir representa:



- a) Peso bruto por eixo
- b) Comprimento limitado
- c) Largura limitada
- d) Altura limitada
- e) Peso bruto total limitado

40. Qual das placas a seguir representa adequadamente a placa e advertência A-3ª – Pista sinuosa à esquerda:

- a) 
- b) 